






Que dit la météo ?

Mathématiques

					
lundi				+	
mardi		+			
mercredi	+				+
jeudi			+		
vendredi				+	
samedi				+	+
dimanche	+				



Combien y a-t-il de jours de soleil ? de vent ? de pluie ?

soleil	
--------	--

vent	
------	--

pluie	
-------	--



Quel jour y a-t-il à la fois du soleil et du vent ? _____



Dessine dans chaque case le symbole du temps qu'il fait au cours de la semaine.

Lundi	Lundi	Mercredi	Jeudi	Vendredi	Samedi	Dimanche

Objectif • Comprendre un tableau à double entrée.

Conseil • Noter que les symboles du temps sont les informations générales du tableau. Sur chaque ligne, l'occurrence du temps est notée par une croix ou deux.